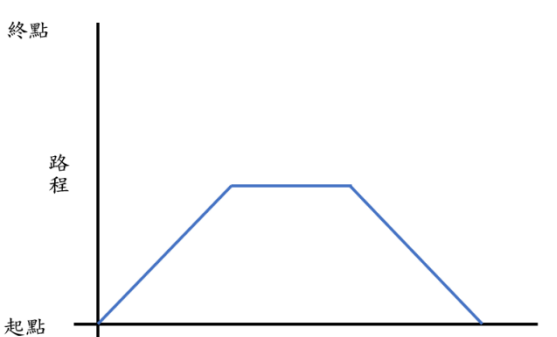

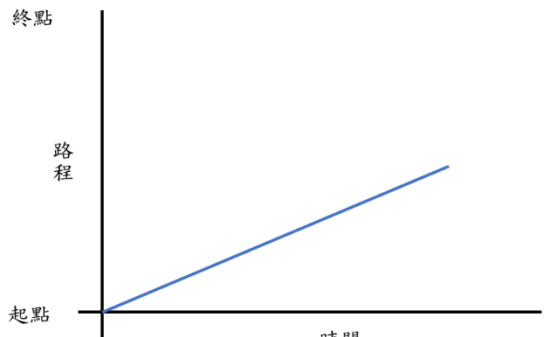

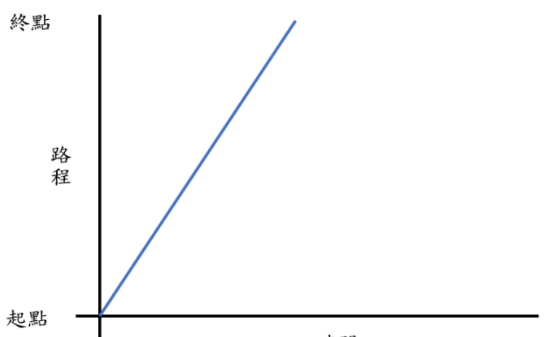

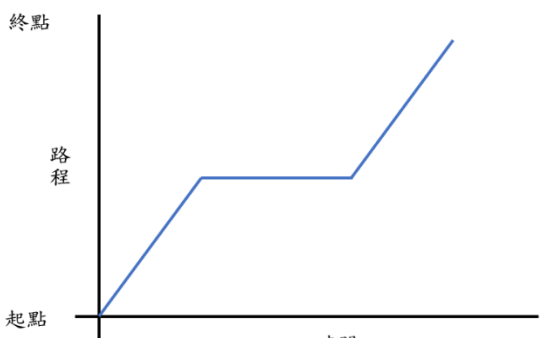



班別:6_____

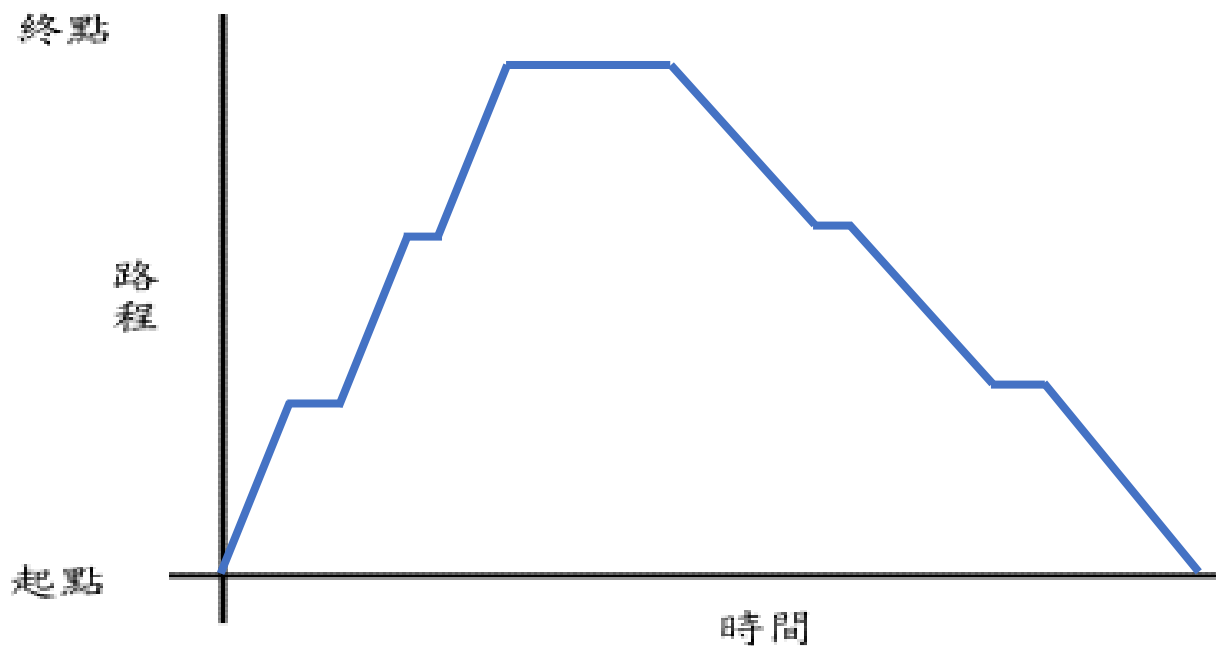
姓名:_____ ()

日期:_____

(一) 以下有 4 個行程圖和編程指令，請將相應的行程圖和編程指令進行配對，並於 () 內填寫對應的英文字母。

<p>1. 終點</p>  <p>起點</p> <p>時間</p> <p>()</p>	<p>A</p> 
<p>2. 終點</p>  <p>起點</p> <p>時間</p> <p>()</p>	<p>B</p> 
<p>3. 終點</p>  <p>起點</p> <p>時間</p> <p>()</p>	<p>C</p> 
<p>4. 終點</p>  <p>起點</p> <p>時間</p> <p>()</p>	<p>D</p> 

(二) 以下是區內循環線小巴的行程圖。試根據行程圖，為 mBot 進行編程，使 mBot 能依據行程圖的路線行走。



☀ 思考題：行程圖中小巴回程時的線段較去程時平緩，即表示小巴行駛的速度較去程時_____，可能因為_____。