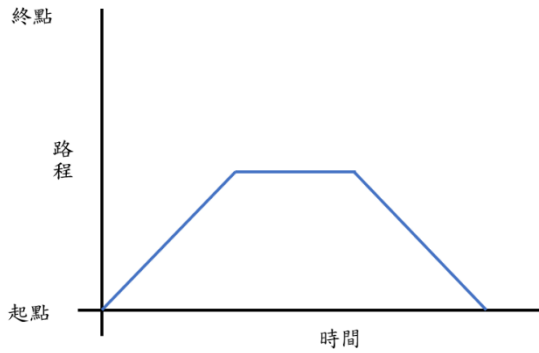


班別:6_____

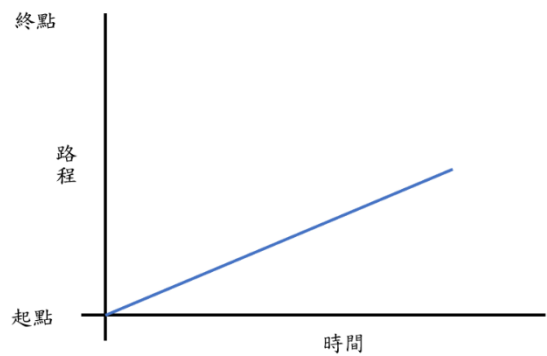
姓名:_____ ()

日期:_____

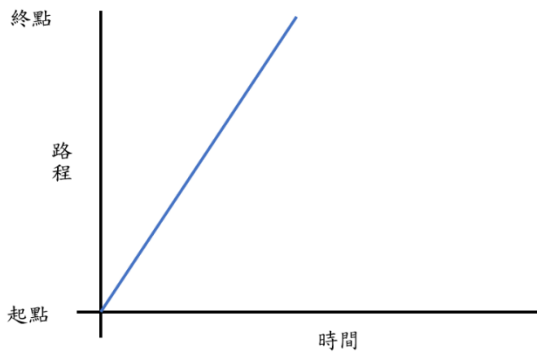
根據 mBot A-E 的行走情況，於下列行程圖填上對應的英文字母。



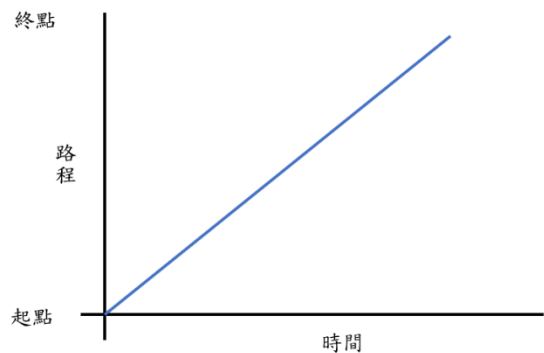
這是 mBot _____ 的行程圖。



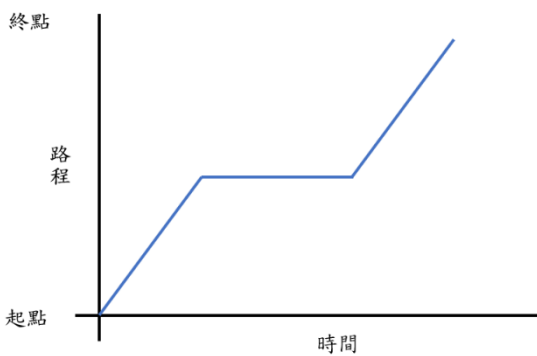
這是 mBot _____ 的行程圖。



這是 mBot _____ 的行程圖。



這是 mBot _____ 的行程圖。



這是 mBot _____ 的行程圖。

從以上的行程圖，我能發現：

1. 當物件_____時，行程圖的線段會以橫線呈現。
2. 物件移動速度愈 (快 / 慢)，行程圖的線段便愈斜。

